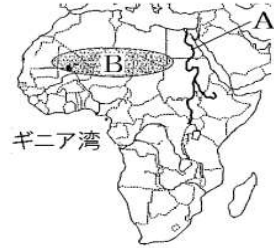


中1地理 <定期テスト対策問題>

練習1

次の文章中の①, ②に適語を入れよ。

エジプトを流れる A の(①)川は長さが世界一の川で、その流域では、かつてエジプト文明が栄えた。アフリカ大陸北部に広がる B の(②)砂漠は世界最大の砂漠である。(②)砂漠の南側を東西に細長くのびるサヘルという乾燥地域では砂漠化が問題になっている。ギニア湾の沿岸部ではかつて、ヨーロッパ人が進出し、奴隷・金・象牙・穀物などが取り引きされた。



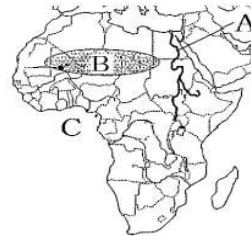
【解答欄】

①	②
---	---

練習2

次の各問いに答えよ。

- (1) 地図の A, B, C の地形名を答えよ。
- (2) B の南側を東西に細長くのびる乾燥地域を何というか。
- (3) A の川の流域で、古代に栄えた文明を何というか。

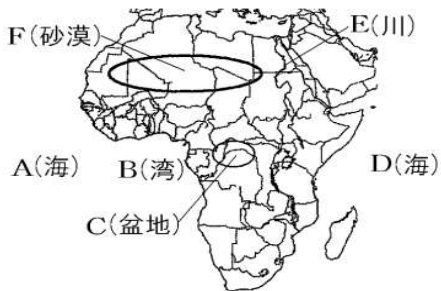


【解答欄】

(1)A	B	C	(2)
(3)			

練習3

次の地図中の A~F の地形名を答えよ。

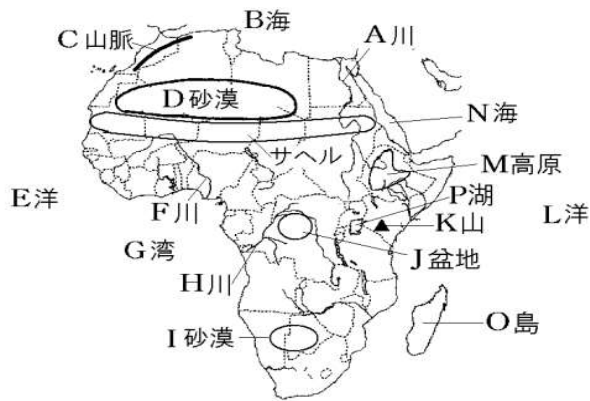


【解答欄】

A	B	C	D
E	F		

練習 4

次の地図中の A～P の地形名を答えよ。



[解答欄]

A	川	B	海	C	山脈
D	砂漠	E	洋	F	川
G	湾	H	川	I	砂漠
J	盆地	K	山	L	洋
M	高原	N	海	O	島
P	湖				

練習 5

右の略地図中の①～④の緯線のうち、赤道にあたるものを1つ選び、番号で答えよ。

[解答欄]

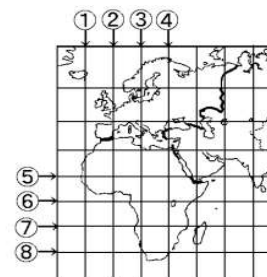


練習 6

右図で赤道と本初子午線を示している線はどれか。図中の①～⑧のうちから、最も適当なものをそれぞれ1つずつ選び、その番号を書け。

[解答欄]

赤道：	本初子午線：
-----	--------



練習 7

次の文章中の①, ②に適語を入れよ。

アフリカではギニア湾付近を赤道が通っている。赤道周辺の気候は(①)帯(図の A)である。赤道直下では、強い日射であたためられた空気が上昇気流となるため、雲が発生しやすく、年中雨が多い。赤道付近で上昇した空気は高緯度に向かって移動し、北回帰線(南回帰線)付近(23.4 度)で下降する。下降気流があるところでは雲は消えて雨はほとんど降らないため、(②)帯(図の B)になっている。アフリカでは北回帰線付近にはサハラ砂漠が広がっている。アフリカ北西部の地中海沿岸は温帯(地中海性気候)(図の C)である。また、アフリカの南端は温帯の気候になっている。アフリカの気候帯は赤道を中心として南北にはほぼ対称に、(①)帯(A)→(②)帯(B)→温帯(C)と分布している。



[解答欄]

①	②
---	---

練習 8

次の各問いに答えよ。

- (1) 図の a, b, c のうち赤道はどれか。
- (2) 次の①~③に適語を入れよ。

A→B→C と移動すると、気候は(①)帯→(②)帯→(③)帯と変化する。



[解答欄]

(1)	(2)①	②	③
-----	------	---	---

練習 9

右の図の A~E の示す気候区を次の[]からそれぞれ選べ。

- [サバナ気候 ステップ気候 地中海性気候 熱帯雨林気候
砂漠気候 温帯湿潤気候]

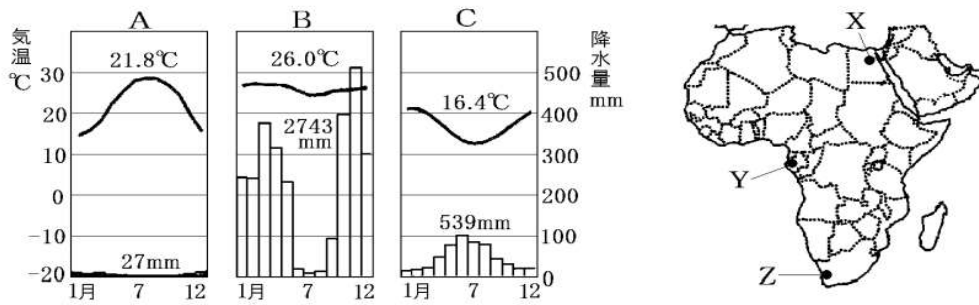


[解答欄]

A	B	C
D	E	

練習 10

次のA～Cのグラフは、略地図中のX～Zの都市のものである。A～Cのグラフは、それぞれX～Zのどの都市にあてはまるか。

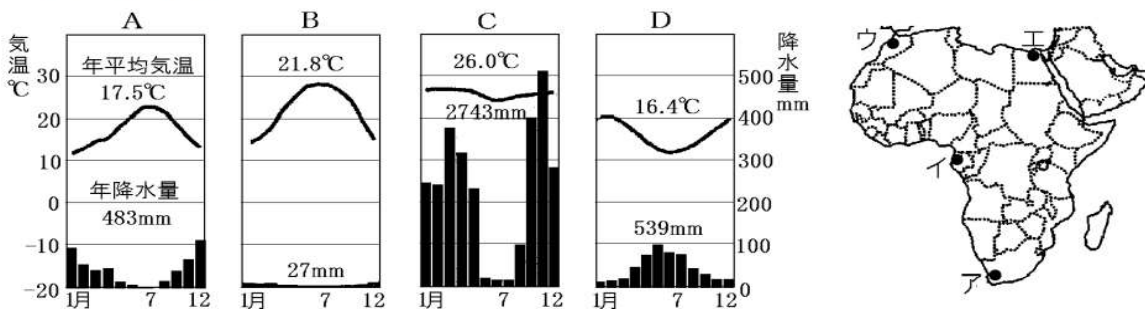


【解答欄】

A :	B :	C :
-----	-----	-----

練習 11

次の各問いに答えよ。



- 上の雨温図A～Dは、地図中のア～エの4都市の気温と降水量を表している。地図中のア～エにあたるものをA～Dから1つずつ選べ。
- ①雨温図A～Dで、同じ気候帯に属するものを選び、記号で答えよ。②また、その気候帯名も答えよ。

【解答欄】

(1)ア	イ	ウ	エ
(2)①	②		

練習 12

次の各問いに答えよ。

- 16世紀以後ヨーロッパ人によりアメリカ大陸へ連れて行かれたアフリカの人々は、強制的に働かされた。彼らを何というか。
- アフリカは、19世紀末までに大部分をヨーロッパ諸国に支配された。この支配された地域を何というか。

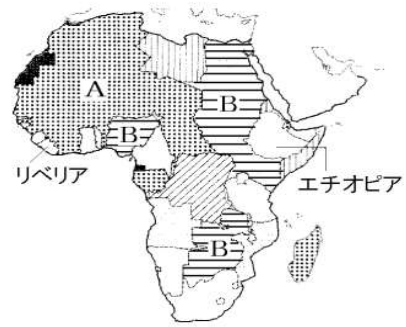
【解答欄】

(1)	(2)
-----	-----

練習 13

アフリカに関する次の文章中の①～⑤にあてはまる語句を書け。

アフリカでは 5000 年前にはナイル川流域でエジプト文明が栄えた。しかし、16 世紀以降、(①)人が千数百万人ともいわれる黒人を(②)として南米や北米に連れ去った。19 世紀末までに、エチオピアとリベリアを除くアフリカの全域が、(①)諸国の(③)地となった。1910 年ごろにアフリカで一番多くの(③)地を持っていた(①)の国は、右図の A の地域を支配した(④)と、B の地域を支配した(⑤)である。



【解答欄】

①	②	③	④
⑤			

練習 14

次の文中の①～③に適語を入れよ。

アフリカ州の国々は、かつてヨーロッパ州の国々の(①)であったが、ヨーロッパ州の国々は民族の分布を無視して経線や(②)によって支配地域を分割したことから(③)的な国境線が多い。民族の境界線と国境線が合わないところでは、民族間の対立、さらには内戦が起きることがある。

【解答欄】

①	②	③
---	---	---

練習 15

アフリカに直線の国境線が多いのは、かつて植民地としてアフリカを支配していたヨーロッパ諸国が()からである。()に適する内容を 20 字以内で書け。

【解答欄】

練習 16

アフリカ州の国々において民族間の対立が多く起こっている理由を、「民族の境界線」「国境線」の 2 つの言葉を用いて簡単に書け。

【解答欄】

練習 17

アフリカ州の国境が直線的に引かれているため、独立後のアフリカ州の国々で起こっている問題を「民族」「内戦」の語句を使って説明せよ。

【解答欄】

練習 18

次の文章中の①、②に適語を入れよ。

北アフリカではアラビア語が使われているが、それ以外の地域では多くの民族が独自の言語を持っている。同じ国内でたがいに言葉が通じないと困るので、現在でも英語やフランス語など植民地時代の旧本国の言語を(①)としている国が多い。

宗教の面では、北アフリカではおもにイスラム教が信仰されているが、それ以外の地域では伝統的な宗教を信仰しており、植民地時代の影響で(②)教も広がっている。



【解答欄】

①	②
---	---

練習 19

アフリカ州について、次の文章中の①～④に適語を入れよ。

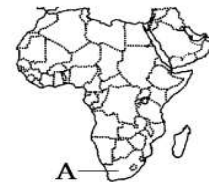
16 世紀以後、多くのアフリカ人が奴隷として連れ出され、19 世紀には、アフリカのほぼ全域はヨーロッパ諸国の(①)となった。その影響で、現在でも英語やフランス語を(②)語としている国が多い。宗教の面では、北アフリカではおもに(③)教が信仰されているが、それ以外の地域では伝統的な宗教を信仰しており、(①)時代の影響で(④)教も広がっている。

【解答欄】

①	②	③	④
---	---	---	---

練習 20

かつて、アパルトヘイト(白人が黒人などの有色人種を差別する人種隔離政策)をとり、世界各国から人権侵害と非難を受けていたが、アパルトヘイト撤廃後、黒人のマンデラ大統領が誕生し、現在では工業化が進んで、アフリカ最大の経済大国になった右図のAの国名を答えよ。



【解答欄】

練習 21

次の各問いに答えよ。

- (1) 工業化が進んで、アフリカ最大の経済大国になった国はどこか。
- (2) (1)の国でかつて行われていた人種隔離政策を何というか。
- (3) (2)の政策が廃止された後、黒人初の大統領に就任した人物は誰か。

【解答欄】

(1)	(2)	(3)
-----	-----	-----

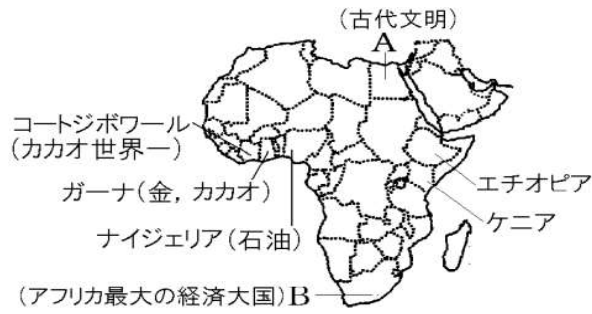
練習 22

南アフリカ共和国で長い間とられてきたアパルトヘイトとは何か。「白人」「黒人」という語句を使って簡単に説明せよ。

【解答欄】

練習 23

次の地図中の A, B にあてはまる国名を書け。



【解答欄】

A	B
---	---

練習 24

次の①～④の文は、それぞれ略地図中のア～エのどこかの国について説明している。それぞれどの国か、記号を答えよ。また、その国名を答えよ。

- ① 金やダイヤモンドがとれる。イギリスから独立した後も、白人優位の国であり続けるために、厳しい人種差別政策(アパルトヘイト)が行われていた。アフリカ最大の経済大国である。
- ② 古くからナイル川の水を使った、かんがい農業が行われ、古代文明が栄え、その遺跡が現在も重要な観光資源になっている。
- ③ ギニア湾に面するこの国は、カカオの生産が世界一である。
- ④ 人口がアフリカ州で最も多い国で、輸出の約7割は石油である。

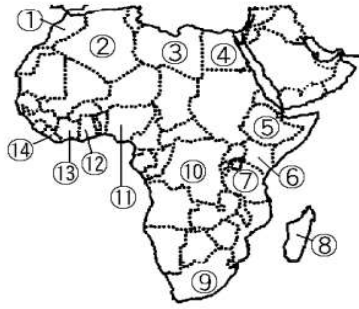


【解答欄】

①	②
③	④

練習 25

次の地図中の①～⑭の国名を答えよ。



【解答欄】

①	②	③
④	⑤	⑥
⑦	⑧	⑨
⑩	⑪	⑫
⑬	⑭	

練習 26

植民地時代のアフリカでは、ヨーロッパ人によって(X)という大農園が開かれた。(X)では、カカオ、コーヒー、綿花、茶など、特定の輸出用の商品作物を大量に生産し、ヨーロッパに輸出した。ギニア湾沿岸のガーナやコートジボワールでは、チョコレートの原料になるカカオの(X)農業が行われた。ケニアでは茶の(X)が、エチオピアではコーヒーの(X)が開かれ、現在も重要な輸出品になっている。文中の X にあてはまる語句を答えよ。

【解答欄】

練習 27

次の文の①～③に適語を入れよ。

アフリカ州のほとんどは、19世紀末までにヨーロッパの国々の(①)となった。そのころヨーロッパ人によって行われた(②)農業では、カカオ、コーヒー、綿花、茶などの特定の輸出用の(③)作物を栽培し、ヨーロッパに輸出していた。

【解答欄】

①	②	③
---	---	---

練習 28

次の各問いに答えよ。

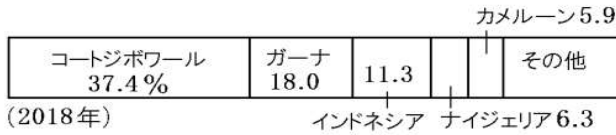
- (1) 植民地時代のアフリカで、ヨーロッパ人がアフリカの人々を労働者として働かせて、特定の作物だけを栽培した大農園を何というか。
- (2) (1)で答えた農業で作られる作物を[]から3つ選べ。
[ぶどう コルク カカオ チーズ トマト コーヒー 茶]
- (3) (2)など、商品として出荷する目的で生産する農作物を何というか。

【解答欄】

(1)	(2)	(3)
-----	-----	-----

練習 29

右の地図中のギニア湾沿岸のガーナ、コートジボワール、ナイジェリアなどの国で、植民地時代からプランテーションで栽培されてきたチョコレートの原料である農作物の国別生産割合は次のグラフの通りである。この農産物は何か。

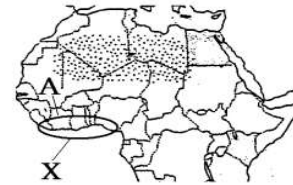


【解答欄】

練習 30

右の地図中の X の地域について、次の各問いに答えよ。

- (1) この地域が面する湾を何というか。
- (2) この地域ではチョコレートの原料となる農作物の栽培がさかんである。この農作物は何か。
- (3) 地図の A 国は(2)の世界最大の生産国であり、この国は昔、象牙などが多く輸出されたことから、「象牙海岸」と呼ばれていた。この国の国名を答えよ。



【解答欄】

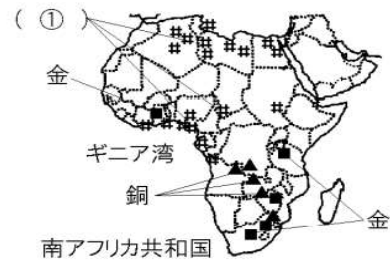
(1)	(2)	(3)
-----	-----	-----

練習 33

次の文章中の①, ②に適語を入れよ。

21世紀になり、アフリカ全体として見ると経済成長率が高くなっているが、これは豊かな鉱産資源を輸出できるからである。(①)はギニア湾沿岸のナイジェリアや、北アフリカ諸国で産出される。金は南アフリカ共和国やガーナなどで産出される。このほか、銅、鉄鉱石、ダイヤモンドなども採掘されている。

また、アフリカ州で近年採れるようになった、自然に存在する量が少なかったり、品質の高いものを得にくかったりする、ガリウム、コバルトなどの(②)も重要な輸出品である。



【解答欄】

①	②
---	---

練習 34

次の各問いに答えよ。

(1) 右の地図中の#、■、▲は、ある鉱産資源の産出地を示している。それぞれの資源名を、次の[]から選べ。

[金 銅 石油]

(2) アフリカや南アメリカで豊富な、クロムやマンガンなどの産出量の少ない金属を何というか。

(3) 21世紀になり、アフリカ全体として見ると経済成長率が高くなっている。その理由を、「鉱産資源」の語句を使って書け。



【解答欄】

(1)# :	■ :	▲ :	(2)
(3)			

練習 35

次のグラフはコートジボワールとナイジェリアの輸出品目である。各問いに答えよ。

コートジボワール(2018年)			天然ゴム		
A 27.5%	11.8	8.5	金 6.8	B 6.4	6.0
野菜・果実		石油製品			

ナイジェリア(2018年)		液化天然ガス	
B 82.3%		9.9	その他

(1) グラフのAは、ガーナも生産国として有名なものである。Aは何か。

(2) グラフのBにあてはまる輸出品目を答えよ。

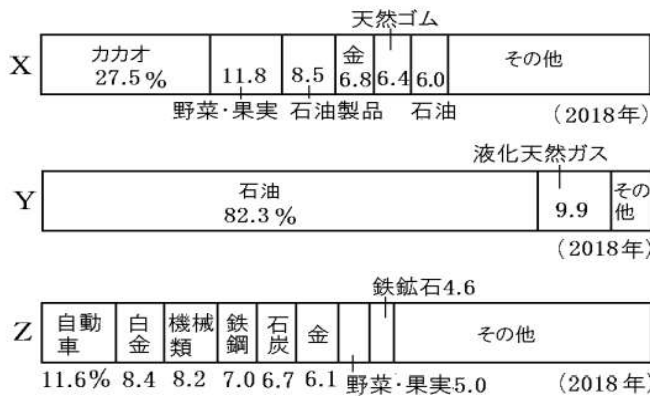
【解答欄】

(1)	(2)
-----	-----

練習 36

次のグラフは、[]内の国のそれぞれの輸出品の割合を示したグラフである。X～Z 国の名前をそれぞれ答えよ。

[ナイジェリア コートジボワール 南アフリカ共和国]



[解答欄]

X	Y	Z
---	---	---

練習 37

アフリカ諸国の多くは、少ない種類の商品作物や鉱産資源の輸出にたよっている。このような経済を(X)経済という。(X)経済は、天候や景気により取引価格が大きく変動するため、収入が安定しないという問題をかかえている。近年、発展途上国でつくられた農産物などを適正な価格で取引するフェアトレードの考え方が重視されるようになってきている。文中の X に適語を入れよ。

[解答欄]

練習 38

アフリカには、モノカルチャー経済の国が多い。モノカルチャー経済とは何か。「商品作物」「鉱産資源」の語句を使って簡単に説明せよ。

[解答欄]

練習 39

次の各問いに答えよ。

コートジボワール(2018年)			天然ゴム		
カカオ 27.5%	11.8	8.5	金 6.8	6.4	6.0
野菜・果実		石油製品	石油		
その他					
ガーナ(2018年)					
金 35.6%		石油 30.4		カカオ 14.3	その他
ナイジェリア(2018年)					
石油 82.3%				液化天然ガス 9.9	その他

- 上のグラフを見てこれらの国の輸出品の特徴を簡単に説明せよ。
- (1)のような経済を何というか。
- (2)の経済の問題点を「天候や景気」「取引価格」「安定」という語句を使って簡単に説明せよ。

【解答欄】

(1)	(2)
(3)	

練習 40

次の各問いに答えよ。

- 次の文の①～③に入れる適語を下の[]より選べ。
 アフリカにはわずかな種類の(①)や(②)の輸出にたよる国が多い。(②)では、最新の電子機器に使用される(③)が注目されている。
 [商品作物 金 機械類 希少金属 鉱産資源]
- (1)のような輸出で成り立っている経済は不安定になりやすいが、その理由を書け。
- 発展途上国でつくられた農産物などを適正な価格で取引をするしくみを何というか。

【解答欄】

(1)①	②	③
(2)		
(3)		

練習 41

アフリカの課題について述べた次の文章の①、②にあてはまる語句を、下の[]の中からそれぞれ選べ。

アフリカのかかえる課題の1つに人口増加の問題がある。人口が増えると、(①)が深刻となる。すると、(①)となった老人や子どもの抵抗力が弱くなり、軽い病気でも死亡してしまう。また、農地拡大のために森林が減少し、(②)が進むといった環境問題にもつながる。

[砂漠化 住宅不足 食料不足 都市問題]

【解答欄】

①	②
---	---

練習 42

右の資料はアフリカ各国と日本の乳児死亡率（出生1000人あたりの死亡数）(2018年)を表している。これについて、次の各問いに答えよ。

国	乳児死亡率 (1歳未満)
シエラレオネ	78.5
コンゴ共和国	36.2
ソマリア	76.6
アンゴラ	51.6
日本	1.8

(1) 資料を見て、アフリカと日本の乳児死亡率の違いを簡潔に説明せよ。

(2) アフリカの乳児死亡率が高いのはなぜか。

【解答欄】

(1)

(2)

練習 43

アフリカ諸国は現在も大きな困難をかかえている。「栄養」「乳児死亡率」の語句を使って、アフリカ諸国の困難な状況を説明せよ。

【解答欄】

練習 44

アフリカ諸国は現在も大きな困難をかかえている。次の[]内の言葉を使って、アフリカ諸国の困難な状況を説明せよ。

[スラム 都市部]

【解答欄】

練習 45

アフリカでも、中国やインド、東南アジアの国々と同じように、農村から都市への人口集積がおこっている。その理由を「収入」の語句を使って説明せよ。

【解答欄】

練習 46

先進国の政府や政府機関は、発展途上国に対して資金協力や技術協力などの ODA(政府開発援助)を行っている。また、もうけや利益を目的としない NGO(非政府組織)からの援助も行われている。アフリカ諸国は、共同で諸問題の解決に取り組むため、2002年に EU をモデルにした(X)を結成した。文中の X に適語を入れよ。

【解答欄】

練習 47

次の各問いに答えよ。

- (1) アフリカで、2002年にEUをモデルに作られた組織は何か。
- (2) アフリカなどの発展途上国の貧困を救うために、先進国の政府が発展途上国に対して行っている援助を何というか。
- (3) 政府だけでなく、非政府組織もアフリカで技術指導などの支援をおこなっている。この非政府組織のアルファベットの略称を答えよ。

【解答欄】

(1)	(2)	(3)
-----	-----	-----